

臺北市立民生國民中學 110 學年度 七年級暑假作業目錄及注意事項

作業內容

已完成	作業項目	頁碼
<input type="checkbox"/>	國文.....	P.1
<input type="checkbox"/>	英語.....	P.2-7
<input type="checkbox"/>	數學.....	P.8-11
<input type="checkbox"/>	自然.....	P.12
<input type="checkbox"/>	社會.....	P.13
<input type="checkbox"/>	體育.....	P.14-15
<input type="checkbox"/>	綜合-輔導活動.....	P.16
<input type="checkbox"/>	藝文.....	P.17

※完成每項作業後請於「已完成」欄打勾！

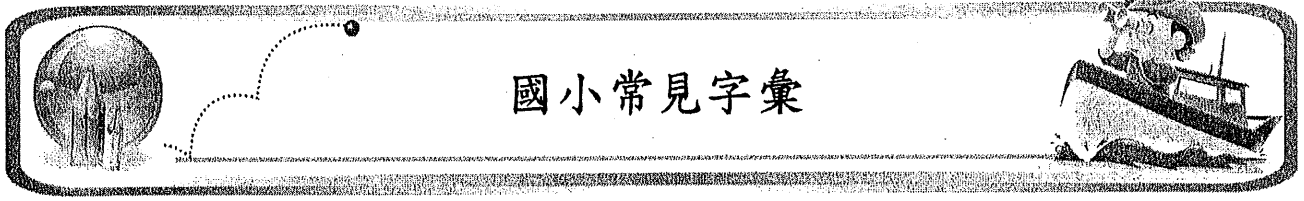
繳交期限及獎懲說明

- ※ 開學第二週 9/10(五)前，於學藝股長幹部訓練時，教務處教學組將發放「暑假作業檢查表」，再請學藝轉知各科小老師，檢查表繳交截止日期為開學第三週 9/17(五)。
- ※ 各科作業表現優良者，請任課教師登記於檢查表，各處室規定的優良作品，請各處室另予獎勵。經催繳後仍未完成補交者，依校規予以警告處理

臺北市立民生國民中學 110 學年度七年級國文領域寒假作業~閱讀筆記

一、班級： 座號： 姓名： 閱讀時間： 年 月 日 ~ 年 月 日			
二、書名：		作者：	
出版社：		頁數：	
三、本書大意（至少 50 字）：			
四、佳句節錄：書中印象最深刻的句子或一段話			
1.			
2.			
3.			
五、心得：			

評鑑項目	書寫美觀性	內容充實性	見解獨創性
評鑑指數	☆☆☆☆☆	☆☆☆☆☆	☆☆☆☆☆



國小常見字彙

國小常見字彙


數字 	zero	one	two	three	four	five
	six	seven	eight	nine	ten	eleven
	twelve	thirteen	fourteen	fifteen	sixteen	seventeen
	eighteen	nineteen	twenty	thirty	forty	fifty
	sixty	seventy	eighty	ninety	number	


人物、稱謂 	boy	brother	doctor	father	friend	girl
	grandfather	grandmother	mother	nurse	sister	student
	teacher	Miss	Mr.	Mrs.		


地點、物件 	classroom	farm	here	home	park	school
	there	zoo	bag	bed	book	box
	card	chair	clock	comic book	desk	doll
	door	eraser	jump rope	pen	pencil	picture
	ruler	telephone	TV	umbrella	tree	watch

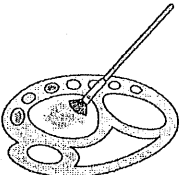
動物 	bird	cat	dog	fish	pig	rabbit
--------	------	-----	-----	------	-----	--------


食物與自然 	apple	banana	egg	orange	tree	
-----------	-------	--------	-----	--------	------	--


<p>時間</p> 	afternoon	evening	morning	night		
---------------------------------------------------------------------------------------------	-----------	---------	---------	-------	--	--


<p>運動與交通</p> 	baseball	basketball	bus	car		
------------------------------------------------------------------------------------------------	----------	------------	-----	-----	--	--


<p>人稱代名詞</p> 	he	her	his	I	it	its
	my	our	she	their	they	we
	you	your				

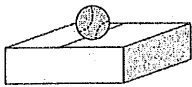
<p>顏色與 其他形容詞</p> 	black	blue	green	pink	red	white
	yellow	bad	big	fat	fine	good
	happy	long	old	sad	short	small
	tall	thin				


<p>be 動詞</p> 	am	are	be	is		
--------------------------------------------------------------------------------------------------	----	-----	----	----	--	--


動作 	close	come	cook	dance	do	draw
	drink	eat	go	have	listen	look
	open	play	read	ride	run	say
	sing	sit	sleep	stand	thank	watch
	write					

冠詞及指示詞 	a	an	that	the	these	this
	those					

wh 疑問詞 	how	what	where	who		

介系詞 	at	for	from	in	next to	of
	on	to	under			

其他 	and	down	game	good-bye	hello	hi
	name	no	not	OK	song	sorry
	up	welcome	yes			



國一新生考卷

七年 ___ 班 座號：___ 姓名：_____

一、依順序寫上缺少的大寫或小寫字母。(每格 2 分，共 26 分。)

1.

	G		I		K	L	M	N
--	---	--	---	--	---	---	---	---

2.

	P		R	S	T	U		W
--	---	--	---	---	---	---	--	---

3.

		c		e	f		h	i
--	--	---	--	---	---	--	---	---

4.

	l		m	n	o			r	s
--	---	--	---	---	---	--	--	---	---

二、下列對應的大、小寫字母組合中，對的打○，錯的打×。(每題 1 分，共 8 分。)

1. () A—a 2. () D—d 3. () B—d 4. () I—i
 5. () P—q 6. () R—r 7. () F—f 8. () Y—v

三、將下列大寫字母改為小寫字母，把小寫字母改為大寫字母。(每題 3 分，共 12 分。)

1. apple → _____
 2. BLACK → _____
 3. CARD → _____
 4. mother → _____

四、將畫線的字改成人稱代名詞。(每格 1 分，共 8 分。)

1. Mary is Jenny's sister. → _____ is _____ sister.
 2. John's brother is tall → _____ brother is tall.
 3. Lily and Bill are friends. → _____ are friends.
 4. Tom and I are classmates. → _____ are classmates.
 5. Henry is my brother. → _____ is my brother.
 6. Spot is my dog. Spot's hair is brown.
 → _____ is my dog. _____ hair is brown.

五、配合題：選出情境相符合的對話。(每題 2 分，共 10 分。)

1. () Nice to meet you. (A) I'm Sam.
2. () Hi, I'm Bill. (B) Nice to meet you, too.
3. () Good morning, Miss Brown. (C) Hello, Joe.
4. () Hello, Mr. Lin. (D) Hi, I'm Linda.
5. () What's your name? (E) Good morning, John.

六、選擇。(每題 1 分，共 12 分)

1. () Alice: _____ is your name? Jane: _____ name is Jane.
(A) What ; My (B) How ; Your (C) How ; My (D) What ; Your
2. () My sister is Mary. _____ is a teacher.
(A) I (B) You (C) He (D) She
3. () I'm your student, and _____ my teacher.
(A) I'm (B) you're (C) he's (D) she's
4. () I am _____ English teacher.
(A) a (B) X (C) an (D) the
5. () This is John. _____ my brother.
(A) His (B) Her (C) He's (D) She's
6. () Ken: What's her phone number? Jack: _____
(A) Her name is Helen. (B) See you.
(C) My phone number is 2222-1314. (D) It's 2331-1689.
7. () _____ your watch.
(A) It's (B) Its (C) He's (D) She's
8. () Tom _____ a teacher.
(A) am (B) is (C) are (D) be
9. () We _____ Jeff and Alan.
(A) am (B) is (C) are (D) be
10. () A: _____ B: Nice to meet you, too.
(A) What's you name? (B) Good morning.
(C) Good. (D) Nice to meet you.
11. () He is a boy. _____ name is Harry.
(A) My (B) His
(C) Her (D) Your
12. () A: What's his name? B: _____
(A) His name is David. (B) He is a student.
(C) He is good. (D) Hi, David.

七、改正並重寫下列句子。(每題 3 分，共 9 分。)

1. Yourname Is mary?

2. Wh at is That?

3. cindy, and i are in japan.

八、閱讀測驗。(每題 5 分，共 15 分。)

Girl: You are David, right?

Boy: No, I'm not David. My name is Jimmy. And you're...

Girl: I'm your new (新的) classmate, Lucy.

Boy: Oh, yes. How are you doing, Lucy?

Girl: Very well. How about you, Jimmy?

Boy: I'm great. Thank you.

1. () What is the boy's name?
(A) David (B) Kevin
(C) Bob (D) Jimmy
2. () How is Lucy?
(A) She's bad. (B) She's OK.
(C) She's not great. (D) She's very well.
3. () Which is right (正確的)?
(A) The girl is David's new classmate.
(B) The boy is Lucy's new classmate.
(C) David is Jimmy's new friend.
(D) They are not in the same class (相同的班級).

班級：_____ 座號：_____ 姓名：_____

創意九宮格

			90
			48
			84
210	36	48	

遊戲規則：

- (1)將阿拉伯數字 1~9，填入空格，同一數字祇出現一次。
- (2)使每一行的三個阿拉伯數字，相乘後，等於下邊數字。
- (3)使每一列的三個阿拉伯數字，相乘後，等於右邊數字。
- (4)本題目的答案祇有一組，沒有兩組答案都對的情形。

創意九宮格

			60
			54
			112
210	54	32	

遊戲規則：

- (1)將阿拉伯數字 1~9，填入空格，同一數字祇出現一次。
- (2)使每一行的三個阿拉伯數字，相乘後，等於下邊數字。
- (3)使每一列的三個阿拉伯數字，相乘後，等於右邊數字。
- (4)本題目的答案祇有一組，沒有兩組答案都對的情形。

創意九宮格

			90
			48
			84
90	63	64	

遊戲規則：

- (1)將阿拉伯數字 1~9，填入空格，同一數字祇出現一次。
- (2)使每一行的三個阿拉伯數字，相乘後，等於下邊數字。
- (3)使每一列的三個阿拉伯數字，相乘後，等於右邊數字。
- (4)本題目的答案祇有一組，沒有兩組答案都對的情形。

創意九宮格

			45
			224
			36
105	48	72	

遊戲規則：

- (1)將阿拉伯數字 1~9，填入空格，同一數字祇出現一次。
- (2)使每一行的三個阿拉伯數字，相乘後，等於下邊數字。
- (3)使每一列的三個阿拉伯數字，相乘後，等於右邊數字。
- (4)本題目的答案祇有一組，沒有兩組答案都對的情形。

創意九宮格

			80
			63
			72
140	108	24	

遊戲規則：

- (1)將阿拉伯數字 1~9，填入空格，同一數字祇出現一次。
- (2)使每一行的三個阿拉伯數字，相乘後，等於下邊數字。
- (3)使每一列的三個阿拉伯數字，相乘後，等於右邊數字。
- (4)本題目的答案祇有一組，沒有兩組答案都對的情形。

創意九宮格

			15
			336
			72
120	63	48	

遊戲規則：

- (1)將阿拉伯數字 1~9，填入空格，同一數字祇出現一次。
- (2)使每一行的三個阿拉伯數字，相乘後，等於下邊數字。
- (3)使每一列的三個阿拉伯數字，相乘後，等於右邊數字。
- (4)本題目的答案祇有一組，沒有兩組答案都對的情形。

創意九宮格

			120
			63
			48
105	48	72	

遊戲規則：

- (1)將阿拉伯數字 1~9，填入空格，同一數字祇出現一次。
- (2)使每一行的三個阿拉伯數字，相乘後，等於下邊數字。
- (3)使每一列的三個阿拉伯數字，相乘後，等於右邊數字。
- (4)本題目的答案祇有一組，沒有兩組答案都對的情形。

創意九宮格

			56
			216
			30
84	160	27	

遊戲規則：

- (1)將阿拉伯數字 1~9，填入空格，同一數字祇出現一次。
- (2)使每一行的三個阿拉伯數字，相乘後，等於下邊數字。
- (3)使每一列的三個阿拉伯數字，相乘後，等於右邊數字。
- (4)本題目的答案祇有一組，沒有兩組答案都對的情形。

一、選擇題：

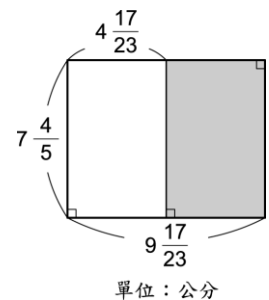
- () 1. 下列式子中，哪一個是正確的？
 ① $c \div (a+b) = c \div a + c \div b$
 ② $c \div (a-b) = c \div a - c \div b$
 ③ $a-b+c = a-c+b$
 ④ $(a+b) \times c = a \times c + b \times c$ 。
- () 2. 下列式子中，哪一個是正確的？
 ① $(a+b) \div c = a \div c + b \div c$
 ② $c \div (a-b) = c \div a - c \div b$
 ③ $a-b-c = a-(b-c)$
 ④ $c \div (a+b) = c \div a + c \div b$ 。
- () 3. 距離不變，若行車速率降低 20%，時間會多花
 ① 10% ② 20% ③ 25% ④ 30%。
- () 4. 甲、乙兩地實際相距 240 公尺，在比例尺 1:1200 的地圖上相距幾公尺？
 ① 2 公尺 ② 0.2 公尺 ③ 5 公尺 ④ 0.5 公尺。
- () 5. 在比例尺 $\frac{0}{21 \text{公里}}$ 的地圖上，地圖上的長度表示為實際長度的
 ① $\frac{1}{21000}$ ② $\frac{1}{21}$
 ③ $\frac{1}{2100000}$ ④ $\frac{1}{700000}$ 。
- () 6. 船隻順流而下的速率是
 ① 船速+水流速率 ② 船速-水流速率
 ③ 船速×水流速率 ④ 船速÷水流速率。
- () 7. 船隻逆流而上的速率是
 ① 船速÷水流速率 ② 船速×水流速率
 ③ 船速-水流速率 ④ 船速+水流速率。
- () 8. 坐標圖上，郵局的位置在雨涵家的左邊，如果雨涵家是在坐標 (5, 2) 的位置，下列哪一個坐標可能是郵局的位置？
 ① (6, 5) ② (5, 7) ③ (3, 2) ④ (8, 6)。
- () 9. 下列哪一個圓的周長是 43.96 公分？
 ① 半徑 5 公分的圓 ② 直徑 6 公分的圓
 ③ 半徑 7 公分的圓 ④ 直徑 8 公分的圓。
- () 10. 下列哪一個圓的半徑是 6 公分？
 ① 圓周長 34.54 公分的圓
 ② 圓周長 37.68 公分的圓
 ③ 圓周長 31.4 公分的圓

④ 圓周長 12.56 公分的圓。

- () 11. 下列式子中，哪一個是正確的？
 ① $c \div a \times b = c \div (a \times b)$
 ② $a \div b \div c = a \div (b \times c)$
 ③ $a \times b \div c = a \div (b \times c)$
 ④ $a + b - c = a - (b + c)$ 。
- () 12. 下列等式何者錯誤？
 ① $666 + 777 + 888 = 666 + (777 + 888)$
 ② $543 + 123 + 57 = (543 + 57) + 123$
 ③ $8.5 \times 0.125 \times 16 = 8.5 \times (0.125 \times 16)$
 ④ $1269.6 \div 69 \div 23 = 1269.6 \div (69 \div 23)$ 。
- () 13. 下列等式何者正確？
 ① $8.37 \div 4 \times 25 = 8.37 \div (4 \times 25)$
 ② $2\frac{1}{3} + 5\frac{2}{7} - 1\frac{1}{3} = (2\frac{1}{3} - 1\frac{1}{3}) + 5\frac{2}{7}$
 ③ $16.9 \div 13 \times 10 = 16.9 \div (13 \times 10)$
 ④ $409 - 219 - 72 = 409 - (219 - 72)$ 。
- () 14. $8 \times 0.7 \times 0.25 = (8 \times 0.25) \times 0.7$ 是符合哪一個運算規則？
 ① 交換律 ② 結合律
 ③ 三一律 ④ 分配律。

二、計算題：

1. 下圖中，塗色部分的面積是多少平方公分？



2. 計算：

$$72 \times 27 \frac{3}{5} - 28 \times 7 \frac{3}{5} + 28 \times 27 \frac{3}{5} - 72 \times 7 \frac{3}{5}$$

3. 計算 $\frac{555 \times 321 + 444}{999 + 555 \times 320}$

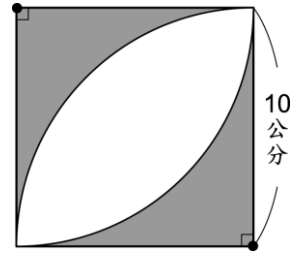
4. 有一個梯形的面積是 528 平方公分，下底是 38 公分，高是 11 公分，上底是多少公分？

5. 有一個長方體的底面為正方形，若長方體的底面邊長是 7 公分，體積是 637 立方公分，高是幾公分？

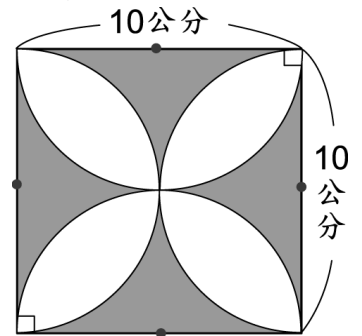
6. 小明和小英玩追逐遊戲，小明的秒速是 4 公尺，小英的秒速是 6 公尺，現在小英在小明後面 10 公尺猛追，幾秒後會追上？

7. 小美搭首班輪船，以每小時 45 公里的速率於上午 8 時 30 分出發，15 分鐘後第二班輪船出發，第二班輪船的時速要多少公里才能在上午 9 時追上首班輪船？

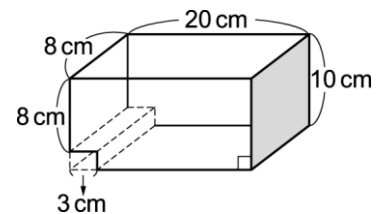
8. 求下圖灰色部分的面積：



9. 求下圖灰色部分的面積：



10. 算算看，下面柱體的體積是多少立方公分？（夾角皆為直角）



11. 在一項商品試用滿意度的調查中，滿意者所占百分率是不滿意者的 3 倍，但還有 24% 表示無意見，則滿意者所占的百分率是多少？

臺北市立民生國民中學 110 學年度自然領域【七年級】暑假作業

班級：_____ 座號：_____ 姓名：_____

各位同學：請利用漫長暑假期間閱讀有關自然科學的書籍，可包含生物、物理、化學或地球科學任一本，並完成下列項目。

書名：_____ 作者：_____

出版社：_____ 頁數：_____

內容大意：

心得感想：

臺北市立民生國中 110 學年度七年級社會領域 暑假作業

主題：『民生、民生~GO GO GO!!』 班別：七年_____班 座號_____姓名_____

民生社區的美食、文教、生態、宗教、商圈等可是多采多姿，這些日常生活百匯也是民生國中校園學習—「歷史」、「地理」、「公民」、「五公里路跑」、「單車成年禮」、「多元文化週」的媒材，來一場民生社區的踏查之旅吧！（Google 地圖是個好用的工具喔）

民生社區踏查地圖

圖例說明：


☆ ☆ ☆ □ 文教學校

○ A B C D 宗教中心

△ 甲 乙 商圈市場

◇ 1 2 3 生態綠地

~美食推薦範圍~



踏查開始：

文教題：請以藍筆圈出圖上「民生國中(地震優先安置學校)」字樣，民生國中的地址是：台北市松山區 _____ 街 _____ 巷 _____ 號；連絡電話：_____

文教題：圖中「☆☆」、「☆☆」、「□☆」哪一所文教學校的經緯度位置是 25.06348265638045、121.56422681890426？ _____ 國小

生態題：◇2 是臺北市少數一座由水生生態為主的公園，這座生態綠地是 _____ 公園

生態題：基隆河河濱是民生國中每學年度辦理「五公里路跑」、「單車成年禮」的活動場地，

◇3 是基隆河 □美堤 □觀山 □彩虹河濱公園，它座落在基隆河 □左岸 □右岸

聚落發展題：信仰中心 ○ A 是座落民生社區香火鼎盛的土地公廟，寺廟名稱是：_____

聚落發展題：在民生社區的街道中，有一條道路的名稱是跟早期居住在民生社區的平埔族聚落有關，這條道路的名稱是？ _____

商圈市場題：△甲可是民生社區歷史悠久的傳統市場，這市場的名稱叫做：_____

商圈市場題：民生社區美食多，不論是臺灣傳統小吃、異國美食、飲品、甜點…，請以圖中所框出的範圍(光復北路、民權東路、塔悠路、延壽街之間)，介紹一家你所推薦的美食店，並在圖上以紅色圓點●標註店家的位置？

我所推薦的美食店名：_____

店家地址：_____

這家店到民生國中的直線距離約 _____ 公尺(可利用 Google 地圖/測量距離來作答，試試看按下滑鼠右鍵會出現不同功能喔)

這家店我最推薦的料理(主餐、飲料、甜點…)是哪一樣？為什麼(請以 30-50 字簡述)？

2020 夏季東京奧運學習單

東京奧運小學堂

2020 年夏季奧林匹克運動會，一般簡稱為 2020 東京奧運，是計劃於 2021 年 7 月 23 日至 8 月 8 日在日本東京舉行的為期 17 天的夏季綜合奧林匹克運動會。東京繼 1964 年睽違 57 年後再次主辦夏季奧運，也是日本第 4 次舉辦奧運會(包含冬季奧運)，也使東京成為目前唯一舉辦兩次夏季奧運的亞洲城市、和世界第 5 個舉辦兩次夏季奧運的城市。本屆賽事原計劃於 2020 年 7 月 24 日至 8 月 9 日舉行，不過由於受到 2019 冠狀病毒病疫情影響，2020 年 3 月 24 日，國際奧林匹克委員會與日本政府決定延期舉行，保留「東京 2020」的名稱不變。由於 2019 冠狀病毒病疫情的全球嚴重擴散，本屆賽事為史上首屆延期舉行的奧運會。

吉祥物：奧運吉祥物名為「未來永遠郎」，是由日文的「未來」(Mirai)和「永遠」(Towa)組成的，希望永遠有美好的未來。

2020 夏季東京奧運競賽運動

水上運動、射箭、田徑、羽球、籃球、拳擊、輕艇、自由車、馬術、擊劍、足球、高爾夫、體操、手球、曲棍球、柔道、現代五項、划船、橄欖球、帆船、射擊、桌球、跆拳道、網球、鐵人三項、排球、舉重、角力、棒壘球、空手道、滑板、運動攀登及衝浪，總計 33 個競賽種類，339 個競賽運動。



從奧運官網看本次 2020 東京奧運的理念

這一次的奧運，其實是一個「永續發展(繼續可能な開發、SGDs)」為一次的重頭戲。呼應這個概念，東京奧會在新聞稿和官網等處提出的標語是「Be better, together より良い未来へ、ともに進もう(暫譯：一起邁向更好的未來)」，並訂定以下五大具體目標：

1. 氣候變動
2. 資源管理
3. 大氣、水、綠、生物多樣性
4. 對人權、勞動、公正企業常規的關懷
5. 參加、共同工作、訊息傳送。

最主要的目標應該可以說是前面兩項：

1. 「氣候變動」的主要宗旨在於強調降低二氧化碳的排放，他們選擇不再蓋太多新的場館，有六成的比賽場地都是使用整理後的舊場館，全面使用再生能源所發的電以及所有的運輸都使用電動車。
2. 「資源管理」則是強調，所有使用的材料都必須要是可以回收再利用的，並嚴格要求贊助商配合，大會結束後要有 65% 以上的素材可以繼續使用，甚至連選手村使用的木材都能夠拆解後繼續活用在其它建築。



奧運冷知識
夏季奧運的競賽項目上限設定為 28 個，因此，若然有新項目加入，必須有舊項目被剔除。

2020 夏季東京奧運暑假作業

- <https://www.youtube.com/watch?v=ENMhrEVa4XQ> 美國準備好了篇
- <https://www.youtube.com/watch?v=ui4NKt-Z5Ks> 疫情影響篇(日本語)
- https://www.youtube.com/watch?v=fqWG5_7nwyk 殘障奧運篇(英語)
- <https://www.youtube.com/watch?v=Y07gKsuYL6o> stronger togethr(英語)
- <https://www.youtube.com/watch?v=ZciNNbgXSIA> 疫情影響下奧運選手篇(英語)
- <https://www.youtube.com/watch?v=akKI70uJ9pg> 運動員精神篇
- <https://www.youtube.com/watch?v=Ik82joBCD6Y> 不放棄兒時夢想篇
- <https://www.youtube.com/watch?v=eaAAfQxi9tA&t=138s> 中華奧運篇

今年 2021 年 7 月 23 日至 8 月 8 日，將在日本東京舉行的為期 17 天的夏季綜合奧林匹克運動會，這幾部影片都是有關 2020 奧運精神的影片，請同學觀賞後寫下屬於你自己的影片心得。

你(妳)選哪一篇：
觀後心得：

2020 年東京奧運雖受 COVID-19 疫情的影響，延後至今年 2021 年 7 月 23 日至 8 月 8 日在日本東京舉行，雖然比賽延後舉行，但奧運會還是所有運動員的最高競技殿堂，各位同學可利用不同轉播平台，認真觀賞一場你(妳)自己喜歡的比賽或儀式(開幕典禮及閉幕典禮)，請你(妳)寫下心得：

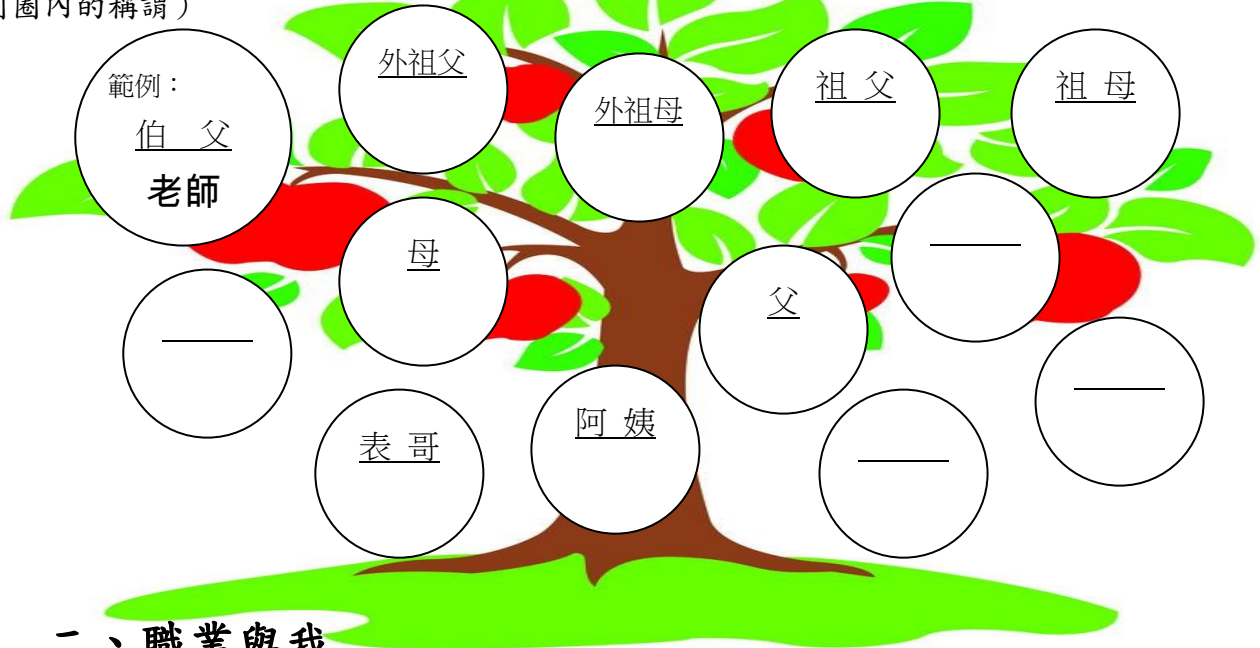
班級	座號	姓名
觀賞平台 <input type="checkbox"/> 電視直播 <input type="checkbox"/> 電視轉播 <input type="checkbox"/> 網際網路直播 <input type="checkbox"/> 網際網路轉播 <input type="checkbox"/> 其他:如現場等...	觀賞項目	對戰組合
分享觀後心得：		
日期	家庭認證人	

臺北市立民生國民中學 110 學年度 七年級 綜合領域 輔導活動 科 暑假作業

職業與我

一、家族職業樹

你知道爸爸、媽媽從事什麼職業嗎？叔叔、姑姑、舅舅、阿姨或其他家人及長輩的職業又是什麼呢？請你將家族中的親屬及其職業填寫在家族職業樹上。（可依據家族實際情況更改圓圈內的稱謂）



二、職業與我

(一) 家人長輩給我的建議：(請訪問一位家人或長輩後填寫)

1. 家人、師長或親友曾經建議我未來可選擇的職業：_____
2. 給我建議的人：_____
3. 建議我選擇這項職業的原因：_____

(二) 我有興趣的職業 (1~2 項)

1. 我最感興趣的職業：_____
2. 我對這職業感興趣的原因：_____
3. 這項職業需具備的學歷、能力、專長或其他條件：_____

(三) 我想要進一步了解哪些職業 (1~2 項)：_____

臺北市立民生國民中學 110 年度七年級藝術與人文領域暑假作業

~你，準備好要「藝起 Fun 暑假」了嗎？~



_____年_____班_____號_____

今年暑假有許多讓人精神為之振奮的藝術相關展覽與演出，在北台灣各地的展演空間，如：松山文創園區、華山 1914 文化創意產業園區、臺北市立美術館、故宮博物院、臺北當代美術館、國家戲劇院、國家音樂廳、兩廳院實驗劇場、城市舞台、松山文創園區展演廳、雲門劇場…等眾多展演場所發生。同學可以針對上述提到的場館，上網搜尋自己有興趣的展覽或演出，主動前往欣賞唷！

除了觀賞展覽或演出外，你也可以選擇參訪不同的宗教建築或是名勝古蹟，相信只要在事前做好充分的資訊蒐集，所有的地方都很值得參觀！

請於下方空白處貼上 **出遊照片**、**票根**或**素描**園區/館區/廟區一隅，並於本頁最下方**參觀心得**處，寫下本次出遊的地點與心得。

請你就你所觀賞之展覽、表演或景點，浮貼票根或照片於下方，並書寫心得約 100 字。



-----**票根、照片浮貼處**-----

參觀心得(100字)



~最後祝福大家有一個充滿藝文氣息的美好暑假喔~